

СРПСКА МАТЕМАТИЧКА ОЛИМПИЈАДА

такмичење ученика средњих школа из математике

Београд, 12.04.2008.

Први дан

1. У скупу целих бројева решити једначину

$$12^x + y^4 = 2008^z. \quad (\text{Милош Милосављевић})$$

2. Дат је троугао ABC . Нека су тачке D и E на правој AB такве да је $D - A - B - E$, $AD = AC$ и $BE = BC$. Симетрале унутрашњих углова код темена A и B секу наспрамне странице у тачкама P и Q , редом, а описану кружницу око троугла ABC у тачкама M и N , редом. Права која спаја тачку A са центром кружнице описане око троугла BME и права која спаја тачку B са центром кружнице описане око троугла AND секу се у тачки X , $X \neq C$. Доказати да је $CX \perp PQ$. (Душан Букић)

3. Доказати да за позитивне реалне бројеве a, b и c , такве да је $a + b + c = 1$, важи неједнакост

$$\frac{1}{bc + a + \frac{1}{a}} + \frac{1}{ca + b + \frac{1}{b}} + \frac{1}{ab + c + \frac{1}{c}} \leq \frac{27}{31}.$$

(Марко Радовановић са сарадницима)

Време за рад 270 минута.
Сваки задатак вреди 7 поена.

СРПСКА МАТЕМАТИЧКА ОЛИМПИЈАДА

такмичење ученика средњих школа из математике

Београд, 13.04.2008.

Други дан

4. Свака тачка равни је обојена са једном од 3 боје. Доказати да постоји троугао за који важи:
- 1° сва 3 темена тог троугла су обојена истом бојом;
 - 2° полупречник описане кружнице тог троугла је 2008;
 - 3° један угао троугла је два или три пута већи од неког од друга два угла. *(Владимир Балџић)*
5. Нека је низ $(a_n)_{n \geq 1}$ дефинисан са $a_1 = 3$, $a_2 = 11$ и $a_n = 4a_{n-1} - a_{n-2}$, за $n \geq 3$. Доказати да је сваки члан овог низа облика $a^2 + 2b^2$ за неке природне a и b . *(Ђорђе Баралић)*
6. Нека је $ABCDE$ конвексан петоугао у коме је $AB = 1$, $\sphericalangle BAE = \sphericalangle ABC = 120^\circ$, $\sphericalangle CDE = 60^\circ$ и $\sphericalangle ADB = 30^\circ$. Доказати да је површина петоугла $ABCDE$ мања од $\sqrt{3}$. *(Милош Милосављевић)*

Време за рад 270 минута.
Сваки задатак вреди 7 поена.

РЕШЕЊА

1. За $x < 0$ или $z \leq 0$ једино решење је тривијално $(0, 0, 0)$. Надаље је $z > 0$. Како је $2008 = 2^3 \cdot 251$, обе стране једначине су дељиве са 251. Претпоставимо да је $x = 2x_1$ парно. Тада $(2^{x_1})^2 \equiv -(y^2)^2 \pmod{251}$, што дизанјем на 125-ти степен даје $1 \equiv (2^{x_1})^{250} \equiv -(y^2)^{250} \equiv -1$ по малој Фермаовој теорему, а то је немогуће. Према томе, x мора бити непарно. Очигледно је y парно. Напишимо $y = 2^u y_1$ за непарно y_1 . Имамо

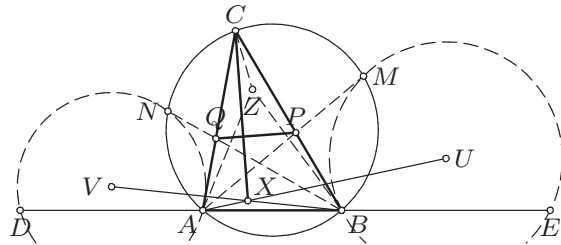
$$2^{2x} 3^x + 2^{4u} y_1^4 = 2^{3z} 251^z.$$

Како је $2x \neq 4u$ јер је x непарно, највећи степен двојке који дели леву страну је 2^{2x} или 2^{4u} , док је највећи степен двојке који дели десну страну једнак 2^{3z} , одакле је $3z = 2x$ или $3z = 4u$. Показаћемо да ни у једном од ова два случаја дата једначина нема решења.

- (i) $3z = 2x < 4u$; дакле, $2 \mid z$. Скраћивање са 2^{2x} даје $3^x + 2^{4u-2x} y_1^4 = 251^z$ што је немогуће јер је лева страна облика $4k + 3$ (јер $2 \nmid x$), а десна облика $4k + 1$ ($k \in \mathbb{N}$).
- (ii) $3z = 4u < 2x$; опет $2 \mid z$. Скраћивање са 2^{4u} даје $2^{2x-4u} 3^x + y_1^4 = 251^z$. Десна страна је облика $5k + 1$, па за $5 \nmid y_1$ имамо $y_1^4 \equiv 1$ и $2^{2x-4u} 3^x \equiv 0 \pmod{5}$ што је немогуће, док за $5 \mid y_1$ имамо $1 \equiv 2^{2x-4u} 3^x \equiv \pm 3^x \equiv \pm 3 \pmod{5}$ јер $2 \nmid x$, опет немогуће.

Друго решење. За парно x лева страна једначине је облика $a^2 + b^2$, а за непарно x лева страна је облика $a^2 + 3b^2$. Међутим, како су -1 и -3 квадратни неостаци по модулу 251, ни $a^2 + b^2$ ни $a^2 + 3b^2$ не могу да буду дељиви са 251 ако $251 \nmid a$. Према томе, дата једначина нема целобројних решења за $z \geq 0$.

2. Означимо са U центар описаног круга $\triangle BME$. Применимо инверзију са центром A и квадратом полупречника $AB \cdot AC$. Тачке B и C се сликају у тачке B' и C' симетричне тачкама C и B у односу на AP , тачке P и M се сликају једна у другу, а E се слика у тачку E' симетричну Q у односу на AP . Према томе, права AU се поклапа са правом која спаја A са центром круга $B'PE'$ (наравно, центри се не сликају један у други!). Видимо да је та права симетрична



правој AZ у односу на симетралу угла A , где је Z центар круга описаног око $\triangle CPQ$.

Аналогно се добија да је права BZ симетрична правој која спаја B са центром V круга AND у односу на симетралу угла B . По Чевиној теорему у тригонометријском облику (или по тврђењу о изогонално спрегнутим тачкама), праве симетричне правим AU, BV, CX у односу на симетрале углова A, B, C редом се такође секу у једној тачки, што значи да је права CZ симетрична CX у односу на симетралу угла C . Али Z је центар круга CPQ , одакле следи да права CX садржи висину троугла CPQ , а то смо и желели да докажемо.

3. Тражена неједнакост је очигледно еквивалентна неједнакости

$$\frac{a}{p+a^2} + \frac{b}{p+b^2} + \frac{c}{p+c^2} \leq \frac{27}{31},$$

где је $a+b+c=1$ и $p=abc+1$. Посматраћемо функцију

$$f(x) = \frac{3(a+b+c)}{3x+a^2+b^2+c^2} - \frac{a}{x+a^2} - \frac{b}{x+b^2} - \frac{c}{x+c^2}.$$

Доказаћемо да важи $f(x) \geq 0$ за све $x \geq ab+bc+ca$. Свођење израза за $f(x)$ на заједнички именилац даје

$$f(x) = \frac{Ax^2 + Bx + C}{(x+a^2)(x+b^2)(x+c^2)(3x+a^2+b^2+c^2)},$$

при чему је $A \geq 0 \geq C$. Заправо, лако се добија

$$\begin{aligned} A &= 2a^3 + 2b^3 + 2c^3 - ab(a+b) - ac(a+c) - bc(b+c) \geq 0, \\ C &= -abc[a(b^3+c^3) + b(c^3+a^3) + c(a^3+b^3) - 2abc(a+b+c)] \leq 0. \end{aligned}$$

Приметимо да није важно колико је B . Према томе, полином $P(x) = Ax^2 + Bx + C$ (ако није константно 0) има две реалне нуле, једну позитивну (рецимо $x = x_0$) и једну негативну, и важи $P(x) \leq 0$ за $0 \leq x \leq x_0$ и $P(x) \geq 0$ за $x \geq x_0$. Тврдимо да је $f(ab+bc+ca) \geq 0$. Заиста,

$$\begin{aligned} & f(ab+bc+ca) \\ &= \frac{3(a+b+c)}{a^2+b^2+c^2+3(ab+bc+ca)} - \frac{a}{(a+b)(a+c)} - \frac{b}{(b+c)(b+a)} - \frac{c}{(c+a)(c+b)} \\ &= \frac{3(a+b+c)}{a^2+b^2+c^2+3(ab+bc+ca)} - \frac{2(ab+bc+ca)}{(a+b)(b+c)(c+a)} \geq 0 \quad \text{јер је} \\ & \frac{3(a+b+c)}{a^2+b^2+c^2+3(ab+bc+ca)} \geq \frac{9}{4(a+b+c)} \geq \frac{2(ab+bc+ca)}{(a+b)(b+c)(c+a)}, \end{aligned}$$

што смо и желели. Према томе, $P(ab + bc + ca) \geq 0$, тј. $x_0 \leq ab + bc + ca$, одакле следи да је и $P(x) \geq 0$ и $f(x) \geq 0$ за све $x \geq ab + bc + ca$. Између осталог, $f(1 + abc) \geq 0$ јер је $1 + abc > 1 > ab + bc + ca$. Тако смо доказали

$$\frac{a}{1 + abc + a^2} + \frac{b}{1 + abc + b^2} + \frac{c}{1 + abc + c^2} \leq \frac{3}{3 + a^2 + b^2 + c^2 + 3abc}. \quad (1)$$

Остаје још само да докажемо да је $a^2 + b^2 + c^2 + 3abc \geq \frac{4}{9}$, што ће заједно са (1) дати тражену неједнакост. Хомогенизација даје $9(a + b + c)(a^2 + b^2 + c^2) + 27abc \geq 4(a + b + c)^3$, што је еквивалентно са

$$5(a^3 + b^3 + c^3) + 3abc \geq 3(ab(a + b) + ac(a + c) + bc(b + c)).$$

Последња неједнакост одмах следи из Шурове неједнакости. Овим је доказ тврђења задатка коначно завршен.

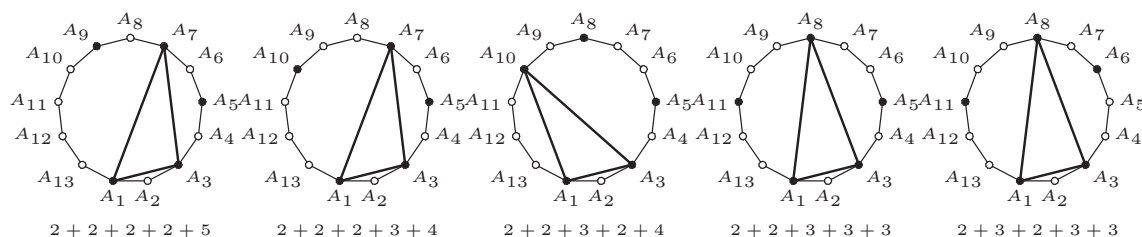
Друго решење. Након хомогенизације, свођења на заједнички именилац и скраћивања неједнакост се своди на симетричну неједнакост која се директно доказује Мјурхедовом неједнакошћу:

$$\begin{aligned} & \frac{23}{2}T_{900} + 122T_{810} + 260T_{720} + 282T_{630} + 193T_{540} + \frac{547}{2}T_{711} + 807T_{620} + 284T_{531} \\ & + 91T_{522} - 98T_{441} - 1669T_{432} - 557T_{333} \geq 0, \end{aligned}$$

где је T_{ijk} симетрична сума $x^i y^j z^k + \dots$.

4. Уочимо правилан тринаестоугао $A_1 A_2 \dots A_{13}$ уписан у круг полупречника 2008. По Дирихлеовом принципу постоји пет темена која су исте боје (нпр. црвене). Разликујемо два случаја.

- (i) Међу пет црвених темена не постоје два суседна. Сваком положају црвених тачака (до на ротацију) одговара композиција броја 13 на 5 сабирака већих од 1. Постоји 5 неподударних распореда и они су приказани на слици испод, са истакнутим троуглом.



- (ii) Нека два црвена темена су суседна, рецимо A_1 и A_2 . Ако је црвена било која од тачака $A_4, A_5, A_6, A_{10}, A_{11}, A_{12}$, тражени троугао је

одређен том тачком и теменима A_1, A_2 . Надаље претпостављамо да ниједна од ових 6 тачака није црвена. Тада су међу теменима $A_3, A_7, A_8, A_9, A_{13}$ бар три црвена. Ако је међу њима A_3 (аналогно за A_{13}), онда је бар једна од тачака A_7, A_9, A_{13} црвена па бар један од троуглова одређених овом тачком и тачкама A_1 и A_3 задовољава услове. Једини преостали случај је кад су црвене тачке A_7, A_8, A_9 , а онда је троугао $A_1A_7A_9$ тражени.

5. Имамо $a_1 = 1 + 2 \cdot 1^2$, $a_2 = 3^2 + 2 \cdot 1^2$, $a_3 = 3^2 + 2 \cdot 4^2$, $a_4 = 11^2 + 2 \cdot 4^2$, итд. Доказаћемо индукцијом по n да важи

$$a_{2n-1} = a_{n-1}^2 + 2 \left(\frac{a_n - a_{n-1}}{2} \right)^2 \quad \text{и} \quad a_{2n} = a_n^2 + 2 \left(\frac{a_n - a_{n-1}}{2} \right)^2,$$

при чему је $a_0 = 1$. Претпоставимо да тврђење важи за n . Тада је

$$\begin{aligned} a_{2n+1} &= 4a_{2n} - a_{2n-1} = 4a_n^2 + 8 \left(\frac{a_n - a_{n-1}}{2} \right)^2 - a_{n-1}^2 - 2 \left(\frac{a_n - a_{n-1}}{2} \right)^2 \\ &= \frac{11}{2}a_n^2 - 3a_n a_{n-1} + \frac{1}{2}a_{n-1}^2 = \frac{11}{2}a_n^2 - 3a_n(4a_n - a_{n+1}) + \frac{1}{2}(4a_n - a_{n+1})^2 \\ &= \frac{3}{2}a_n^2 - a_n a_{n+1} + \frac{1}{2}a_{n+1}^2 = a_n^2 + 2 \left(\frac{a_{n+1} - a_n}{2} \right)^2; \\ a_{2n+2} &= 4a_{2n+1} - a_{2n} = 4a_n^2 + 8 \left(\frac{a_{n+1} - a_n}{2} \right)^2 - a_n^2 - 2 \left(\frac{a_n - a_{n-1}}{2} \right)^2 \\ &= 3a_n^2 + 8 \left(\frac{a_{n+1} - a_n}{2} \right)^2 - 2 \left(\frac{a_{n+1} - 3a_n}{2} \right)^2 = \frac{3}{2}a_{n+1}^2 - a_n a_{n+1} + \frac{1}{2}a_n^2 \\ &= a_{n+1}^2 + 2 \left(\frac{a_{n+1} - a_n}{2} \right)^2, \end{aligned}$$

чиме је доказ завршен.

Друго решење. Познато је да се непаран природан број $m > 1$ може представити у облику $a^2 + 2b^2$ за неке узајамно просте $a, b \in \mathbb{N}$ ако и само ако су сви прости делиоци m облика $8k+1$ или $8k+3$, $k \in \mathbb{N}_0$. Лако се види да су сви чланови низа (a_n) непарни; остаје да покажемо да ако прост број p дели a_n , онда је $p = 8k+1$ или $8k+3$ за неко $k \in \mathbb{N}_0$.

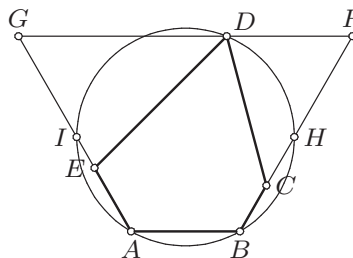
Показује се индукцијом по n да је $a_n a_{n+2} = a_{n+1}^2 + 2$. Заиста, ово важи за $n \leq 2$, а за $n > 2$, уз претпоставку да важи за $n-2$, имамо

$$\begin{aligned} \frac{a_{n+1}^2 + 2}{a_n} &= \frac{(4a_n - a_{n-1})^2 + 2}{a_n} = 16a_n - 8a_{n-1} + \frac{a_{n-1}^2 + 2}{a_n} \\ &= 16a_n - 8a_{n-1} + a_{n-2} = 4a_{n+1} - a_n = a_{n+2}. \end{aligned}$$

Одавде следи да је -2 квадратни остатак по сваком простом делиоцу p броја a_n , па је $p \equiv 1$ или $p \equiv 3 \pmod{8}$.

6. Нека је k круг описан око троугла ABD , и l права кроз D паралелна са

AB . Полупречник круга k је 1. Полуправе BC и AE секу k у тачкама H и I , а праву l у F и G , редом. Треуголови FCD и GDE су слични јер је $\angle CFD = \angle DGE = 60^\circ$ и $\angle FCD = 120^\circ - \angle CDF = \angle GDE$.



Означимо са $k = \frac{FC}{GD} = \frac{FD}{GE}$ коефицијент сличности, са h растојање тачке D од HI , и $x = FD$, $y = GD$.

Лако се налази да је $x + y = 2 + \frac{2}{\sqrt{3}}h$ и $xy = \frac{4}{3}h^2 + \frac{2}{\sqrt{3}}h$ (производ xy је потенција тачке F у односу на k и једнак је $OF^2 - 1$, где је O центар круга k). Тако добијамо

$$P_{ABFG} = \frac{1}{2}(1 + x + y) \left(\frac{\sqrt{3}}{2} + h \right) = \frac{1}{\sqrt{3}}h^2 + 2h + \frac{3\sqrt{3}}{4}$$

$$P_{FCD} + P_{GDE} = \frac{1}{2}(x \cdot FC + y \cdot GE) \sin 60^\circ = \frac{\sqrt{3}}{4}xy \left(k + \frac{1}{k} \right) \geq \frac{\sqrt{3}}{2}xy = \frac{2}{\sqrt{3}}h^2 + h,$$

па је

$$P_{ABCDE} = P_{ABFG} - (P_{FCD} + P_{GDE}) \leq -\frac{1}{\sqrt{3}}h^2 + h + \frac{3\sqrt{3}}{4} = f(h).$$

Квадратна функција $f(h)$ достиже максимум за $h = \frac{\sqrt{3}}{2}$, чиме је доказано да је $P_{ABCDE} \leq \sqrt{3}$. Једнакост би важила само ако је $h = \frac{\sqrt{3}}{2}$ и $k = 1$; тада би (ако без смањења општости претпоставимо $DA \geq DB$) тачка D била симетрична тачки B у односу на HI , па би троугао ADG био једнакостраничан и $FC = GD = GA = FB$ што је немогуће јер би се B и C поклапале. Зато је горња неједнакост строга.

Друго решење. Претпоставимо да троугао ABD није тупоугли. Тада се тачке C' и E' симетричне тачкама C и E у односу на праве BD и AD редом налазе унутар троугла ABD , на истој правој кроз D , и важи

$$S_{ABCDE} = S_{ABD} + S_{ADE} + S_{BDC} = S_{ABD} + S_{ADE'} + S_{BDC'} \leq 2S_{ABD} - S_{ABF},$$

при чему F тачка пресека правих AE' и BC' . Једнакост важи ако и само ако је $F \equiv C' \equiv E'$. Означимо $\angle BAD = \alpha$. Тада је $\angle ABD = 150^\circ - \alpha$, $\angle BAF = 2\alpha - 120^\circ$, $\angle ABF = 180^\circ - 2\alpha$, па важи

$$S_{ABD} = \sin \alpha \sin(150^\circ - \alpha) = \frac{\sqrt{3}}{4} + \frac{1}{2} \cos(150^\circ - 2\alpha) = \frac{\sqrt{3}}{4} + \frac{1}{2}u,$$

$$S_{ABF} = \frac{1}{\sqrt{3}} \sin(2\alpha - 120^\circ) \sin 2\alpha = -\frac{\sqrt{3}}{12} + \frac{\sqrt{3}}{6} \cos(300^\circ - 4\alpha) = -\frac{\sqrt{3}}{4} + \frac{1}{\sqrt{3}}u^2,$$

где је $\cos(150^\circ - 2\alpha) = u$ и одатле $\cos(300^\circ - 4\alpha) = 2u^2 - 1$. Сада имамо

$$S_{ABCDE} \leq 2S_{ABD} - S_{ABF} = \frac{3\sqrt{3}}{4} + u - \frac{u^2}{\sqrt{3}} \leq \sqrt{3},$$

уз једнакост која би важила за $u = \frac{\sqrt{3}}{2}$, тј. $\alpha \in \{60^\circ, 90^\circ\}$, и $F \equiv C' \equiv E'$, али се никада не достиже јер се за ове вредности α тачка F налази у темену правоугла, па је петougао дегенерисан.

У случају тупоуглог троугла ABD , уз исте ознаке, тачка F се налази изван троугла ABD , али горњи израз за површину $\triangle ABF$ узима негативне вредности, па се опет добија $S_{ABCDE} \leq \frac{3\sqrt{3}}{4} + u - \frac{u^2}{\sqrt{3}} < \sqrt{3}$.

